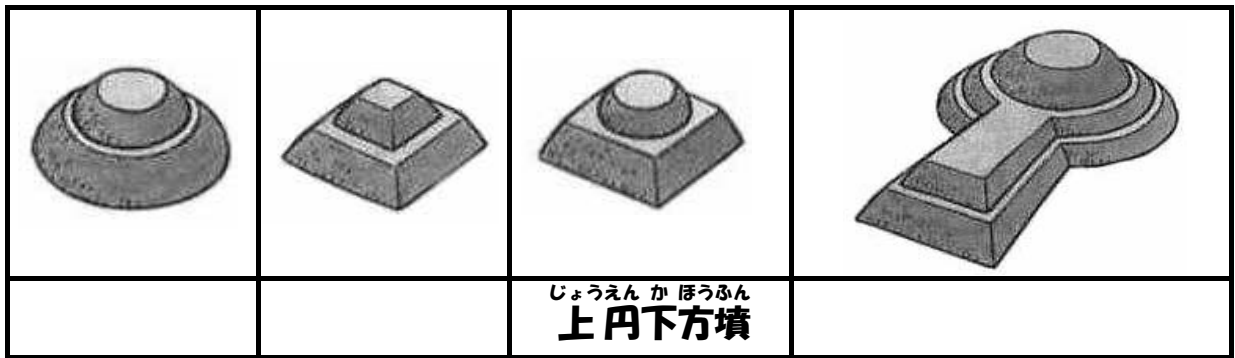


こふん しら
「古墳」について調べよう

「古墳」は、3世紀の初めごろから、各地の王や豪族をほうむるためにつくられた墓です。ほとんどの古墳は、土をもったりしてつくった小山のような「墳丘」をもち、当時の王や豪族は、大きな「古墳」をつくることによって力の大きさを示したと考えられています。

しゅるい
古墳の種類

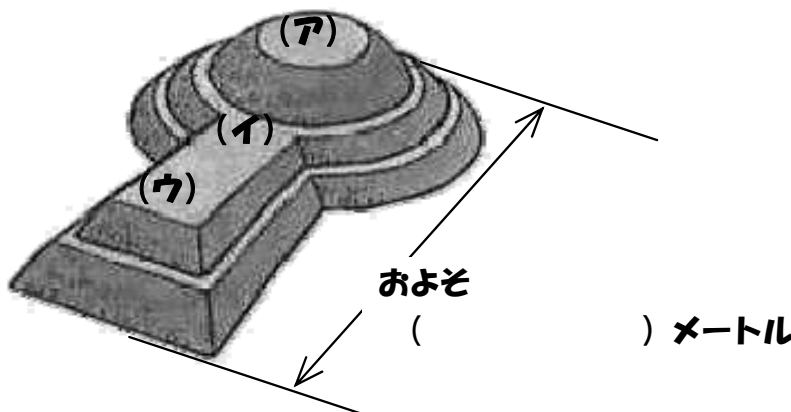
古墳は、「墳丘」の形によってさまざまな種類があります。次の古墳はそれぞれ何とよばれているでしょうか？



なかやまおおつか てんりし もけい
「中山大塚古墳」(天理市)の模型を見て、答えよう

王や豪族は古墳のどこにほうむられるのが普通だったでしょうか？

(記号で答えましょう)







王や豪族がほうむられている部屋は何でつくられていますか？


古墳におさめられたもの

古墳の石室や棺には、さまざまな品物がおさめられました。その品物から、王や豪族の力の強さや大陸とのつながりもわかります。

① 次のものを「第2展示室」で探し出して、それぞれの問題に答えよう。

 <p>しゃりんせき 車輪石</p> <p>これは何でしょう？</p> <p>()</p>	 <p>めいしょう 名称は？ ()</p> <p>どんな色のものがあつた？</p> <p>()</p>
 <p>どうきょう ないこう かもんきょう 銅鏡 (内行花文鏡)</p> <p>古墳によっては30枚もの鏡がうめられていました。どうして鏡をおさめたのでしょうか？</p> <p>()</p>	<p>かっちゅう 甲冑と刀</p> <p>これらの武器は何で作られていますか？</p>  <p>()</p>

② 「藤ノ木古墳」 (斑鳩町) におさめられていたものを観察してみよう。

 <p>こんどうせい 金銅製 ()</p>	 <p>() 金具 (後輪)</p>	 <p>こんどうせい 金銅製 ()</p> <p>※復元品が正面入り口にあるよ</p>
<p>○ の部分には、それぞれ動物がデザインされています。何がいますか？</p>		
<p>()</p>	<p>()</p>	<p>()</p>

☆古墳についてもっと知りたい人は「映像 (ビデオ) ライブラリー」にも行ってみよう!

- 「時代」 → 「古墳時代」 → 「古墳の形態」 の順番に画面にタッチ
- 「分野」 → 「服装とアクセサリ」 → 「玉はよみがえる」 の順番に画面にタッチ
- 「発掘調査」 → 「古墳時代」 → 「藤ノ木古墳の開棺調査速報」 の順番に画面にタッチ